

# 波動方程式

山本昌志\*

2006年2月7日

## 1 波動方程式とは

ラプラス方程式が済んだので、次に波動方程式に移ろう。その前に、2階の偏微分方程式の種類について説明しておく。2階の偏微分方程式は、ラプラス方程式のように楕円型、次に学習する波動方程式のような双曲型、学習はしないが拡散方程式のような放物型に分けられる。これが、2階の偏微分方程式の代表的な型である。これらの解法を知っておけば、自然現象の多くの問題を計算することができる。いうなれば、超基本の方程式である。

波動方程式は、名前が表しているように波の方程式である。自然科学では、波を扱うことが非常に多い。光、電磁波、量子力学等の問題は全て波を取り扱っている。いろいろな場面で出くわす波の方程式は簡単で、

$$\frac{\partial^2 f}{\partial x^2} + \frac{\partial^2 f}{\partial y^2} + \frac{\partial^2 f}{\partial z^2} = \frac{1}{c^2} \frac{\partial^2 f}{\partial t^2} \quad (1)$$

と書き表すことができる。cは波の速度である。これは、3次元の場合で、時間を入れると4次元の方程式になり、ちょっと計算するには複雑である。そこで、ここでは空間1次元、時間1次元の2次元の方程式

$$\frac{\partial^2 f}{\partial x^2} = \frac{1}{c^2} \frac{\partial^2 f}{\partial t^2} \quad (2)$$

を数値計算で解くことを考える。

皆さんは、フーリエ級数を学習したときに、この方程式を解いたとはずである。ここでは、数値計算により近似解を得る方法を学習する。もちろん、フーリエ級数で解いた解は、解析解で完璧である。ただ、フーリエ級数が適用できるのは、空間が1次元の場合である。2次元以上になると境界条件が簡単な場合に限る。フーリエ級数を用いて計算できる。境界が複雑になると、数値計算で近似解を求めることが重要になる。数値計算は、空間が2次元以上の問題で威力を発揮することになるが、ここでは学習のため、空間が1次元の問題を解くことにする。

具体的な問題を例にして、学習を進める。比較的単純な問題として、図1のような弦の振動を考える。これは、ギターのように両端が固定された弦である。ある時刻tの位置xの変位を $u(x, t)$ としている。この変位は波動方程式、

$$\frac{\partial^2 u}{\partial x^2} = \frac{\partial^2 u}{\partial t^2} \quad (3)$$

\*独立行政法人 秋田工業高等専門学校 電気工学科

を満たす。ただし，波の速度は  $c = 1$  とした。こうしても，波動方程式を解くという意味はそうは変わらないし，計算が楽になるメリットはある。

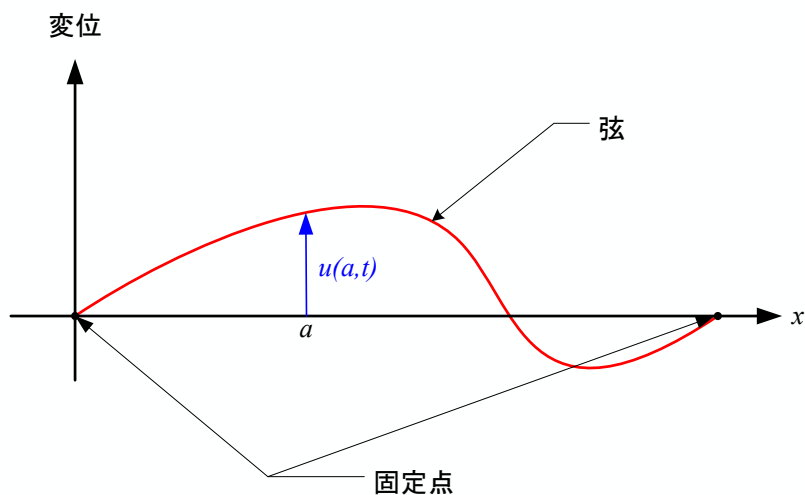


図 1: 時刻  $t$  の弦の様子。

## 2 差分法による 1 次元波動方程式の数値計算

このあたりの説明は，参考文献 [1] を大いに参考にした。これは分かりやすい教科書なので，読んでみると良いだろう。

### 2.1 差分方程式

1 次元波動方程式を数値計で解くことを考える。その前に，解くべき方程式と条件をきちんと書いておく。解くべき方程式と条件は，

$$\begin{cases} \frac{\partial^2 u}{\partial x^2} = \frac{\partial^2 u}{\partial t^2} & (0 \leq x \leq 1, \quad 0 \leq t) \\ u(x, 0) = \phi(x), \quad \frac{\partial u}{\partial t}(x, 0) = \psi(x) & (0 \leq x \leq 1) \\ u(0, t) = u(1, t) = 0 \end{cases} \quad (4)$$

となる。弦を伝わる波の速度は 1，弦の長さも 1 としている。この最初の式は波動方程式であるが，2 番目を初期条件，3 番目を境界条件と言う。2 番目の初期条件は， $t = 0$  の時の弦の状態を示しており， $\phi(x)$  はそのときの弦の形 (変位)， $\psi(x)$  は弦の変位の速度である。

波動方程式の他に，初期条件と境界条件がある．力学的状態は，ある時刻，ここでは  $t = 0$  の時の変位とその変位の速度が決まれば，それ以降を決めることができる．振動の場合は，これに加えて更に，振動の境界条件を決める必要がある．これらが決まって初めて，波動方程式とともに，振動の状態，ある時刻と位置の変位の値が決まるわけである．図 4 に初期条件と境界条件の様子を示す．

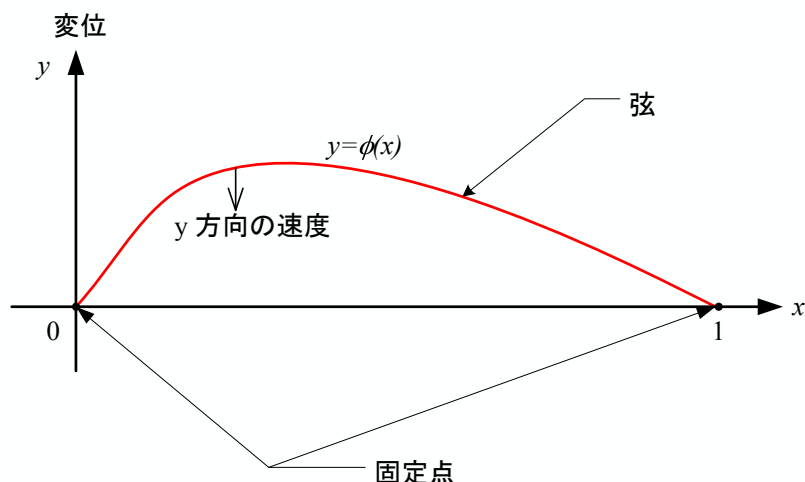


図 2: 時刻  $t = 0$  のときの弦の様子 (スナップショット)．初期条件と境界条件が表されており， $y$  方向の速度が  $\psi(x)$  になっている．

まずは，波動方程式を差分方程式に書き直すことから始める．これも，いつものように，解  $u(x, t)$  をテイラー展開する． $x$  方向の微小変位を  $\delta x$ ，時間軸方向の微小変位を  $\delta t$  とする．すると，

$$\begin{aligned} u(x + \Delta x, t) &= u(x, t) + \frac{\partial u}{\partial x} \Delta x + \frac{1}{2!} \frac{\partial^2 u}{\partial x^2} (\Delta x)^2 + \frac{1}{3!} \frac{\partial^3 u}{\partial x^3} (\Delta x)^3 + \frac{1}{4!} \frac{\partial^4 u}{\partial x^4} (\Delta x)^4 + \dots \\ u(x - \Delta x, t) &= u(x, t) - \frac{\partial u}{\partial x} \Delta x + \frac{1}{2!} \frac{\partial^2 u}{\partial x^2} (\Delta x)^2 - \frac{1}{3!} \frac{\partial^3 u}{\partial x^3} (\Delta x)^3 + \frac{1}{4!} \frac{\partial^4 u}{\partial x^4} (\Delta x)^4 - \dots \end{aligned} \quad (5)$$

となる．これらの式の辺々を足し合わせると，

$$\left. \frac{\partial^2 u}{\partial x^2} \right|_{x,t} = \frac{1}{\Delta x^2} [u(x + \Delta x, t) - 2u(x, t) + u(x - \Delta x, t)] - O(\Delta x^2) \quad (6)$$

が得られる．このことから，2 階の偏導関数の値は微小変位  $\Delta x$  の場所の関数の値を用いて， $(\Delta x)^2$  の精度で近似計算ができることが分かる．すなわち，式 (6) の右辺の第 1 項を計算すればよいのである．ラプラス方程式と同じである．同様なことを時間軸方向についても行うと

$$\left. \frac{\partial^2 u}{\partial t^2} \right|_{x,t} = \frac{1}{\Delta t^2} [u(x, t + \Delta t) - 2u(x, t) + u(x, t - \Delta t)] - O(\Delta t^2) \quad (7)$$

が得られる．

これらの式 (6) と (7) を元の波動方程式 (4) に代入すれば,

$$\frac{1}{\Delta x^2} [u(x + \Delta x, t) - 2u(x, t) + u(x - \Delta x, t)] = \frac{1}{\Delta t^2} [u(x, t + \Delta t) - 2u(x, t) + u(x, t - \Delta t)] \quad (8)$$

となる。これが、1次元波動方程式の差分の式である。この式を計算し易いように、もう少し変形すると、

$$u(x, t + \Delta t) = 2u(x, t) - u(x, t - \Delta t) + \frac{\Delta t^2}{\Delta x^2} [u(x + \Delta x, t) - 2u(x, t) + u(x - \Delta x, t)] \quad (9)$$

とすることができる。この式の右辺は、時刻  $t$  と  $t - \Delta t$  の値である。そして、左辺は時刻  $t + \Delta t$  の値である。このことから、式 (9) を用いると、時刻  $t$  と  $t - \Delta t$  の値から、 $t + \Delta t$  の値が計算できることになる。

実際に式 (9) を数値計算する場合、 $x$  方向には  $\Delta x$ 、時間軸方向には  $\Delta t$  毎に分割する。ラプラス方程式を格子点で分割したのと同じである。格子点に分割し数値計算する場合、 $u(x, t)$  や  $u(x + \Delta x, y)$  と表現するよりは、 $u_{ij}$  と表現したほうが便利である。そこで、

$$\begin{aligned} u(x, t) &= u(i\Delta x, j\Delta t) \\ &= u_{ij} \end{aligned} \quad (10)$$

と表現を改める。このようにすると、式 (9) は

$$u_{ij+1} = 2u_{ij} - u_{ij-1} + \alpha(u_{i+1j} - 2u_{ij} + u_{i-1j}) \quad (11)$$

となり、数値計算し易い形になる。ただし、

$$\alpha = \frac{\Delta t^2}{\Delta x^2} \quad (12)$$

である。

この式を用いた計算の様子を図 3 に示す。

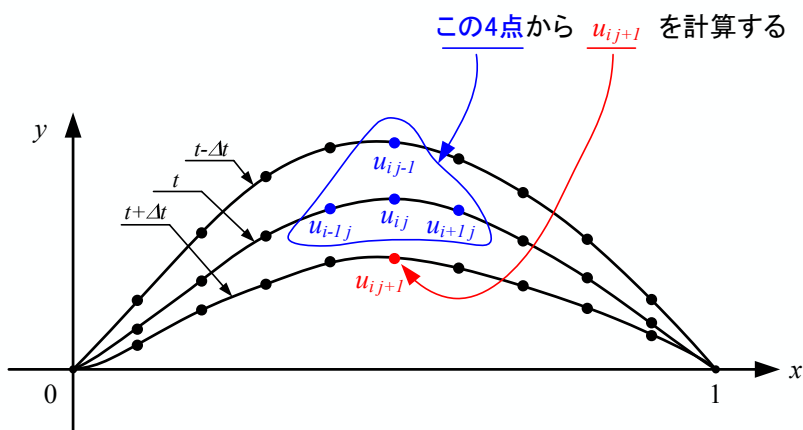


図 3: 差分方程式の計算の様子

波動方程式というけったいな偏微分方程式が、ただ単に数値を順番に代入していく式に変換されたわけである。この計算は非常に簡単である。ただ、時間領域を 1000 分割 ( $N_t = 1000$ )、 $x$  軸領域も 1000 分割 ( $N_x = 1000$ ) すると、100 万回の計算が必要であるが、コンピューターにとって、その程度の計算は大したことはない。

## 2.2 初期条件

式 (11) を計算すると、 $t = 0$  の状態から、時間の経過によって弦の様子がどうなるか分かる。以下のように、芋づる式に、弦の変位が計算できるわけである。

$$\begin{array}{cccccccc}
 u_{10} & u_{20} & u_{30} & u_{40} & u_{50} & \cdots & u_{N_x-10} & \\
 & & & \Downarrow & & & & \\
 u_{11} & u_{21} & u_{31} & u_{41} & u_{51} & \cdots & u_{N_x-11} & \\
 & & & \Downarrow & & & & \\
 u_{12} & u_{22} & u_{32} & u_{42} & u_{52} & \cdots & u_{N_x-12} & \\
 & & & \Downarrow & & & & \\
 u_{13} & u_{23} & u_{33} & u_{43} & u_{53} & \cdots & u_{N_x-13} & \\
 & & & \vdots & & & & \\
 & & & & & & & \\
 u_{1N_t} & u_{2N_t} & u_{3N_t} & u_{4N_t} & u_{5N_t} & \cdots & u_{N_x-1N_t} & 
 \end{array}$$

このように、計算を盲目的に進めれば、弦の振動の式 (4) の数値計算の結果である近似解が得られる。当然、境界条件

$$u_{0j} = u_{N_x j} = 0 \quad (j = 0, 1, 2, 3, \dots, N_t) \quad (13)$$

を、忘れてはならない。

これを計算するためには、まず、 $u_{i0}$  ( $i = 1, 2, 3, \dots, N_x - 1$ ) の値を決める必要がある。これ以前の状態が分からないので、式 (11) は使えないが、式 (4) の初期条件が使える。すなわち、

$$u_{i0} = \phi(i\Delta x) \quad (14)$$

である。

次に、 $u_{i1}$  ( $i = 1, 2, 3, \dots, N_x - 1$ ) を計算するわけであるが、まだ、式 (11) は使えない。なぜならば、この式は 2 つ前の状態まで必要なので、これまでのところ、一つ前の状態しか分かっていないからである。そこで、2 番目の初期条件 (変位の速度) を使うことになる。計算したい量は  $u(x, \Delta t)$  なので、とりあえずテーラー展開してみる。これを、 $t = 0$  の周りでテーラー展開すると、

$$\begin{aligned}
 u(x, \Delta t) &= u(x, 0) + \frac{\partial u}{\partial t} \Delta t + \frac{1}{2!} \frac{\partial^2 u}{\partial t^2} (\Delta t)^2 + O(\Delta t^3) \\
 &\quad \text{初期条件と波動方程式より} \\
 &= u(x, 0) + \psi(x) \Delta t + \frac{\Delta t^2}{2} \frac{\partial^2 u}{\partial x^2} (\Delta t)^2 + O(\Delta t^3)
 \end{aligned} \quad (15)$$

となる．この右辺の第 1 と 2 項は簡単に計算できる．問題は第 3 項であるが，これは見覚えのある式である．式 (6) と同じである．これを代入すると，

$$\begin{aligned} u(x, \Delta t) &\approx u(x, 0) + \psi(x)\Delta t + \frac{\Delta t^2}{2\Delta x^2} [u(x + \Delta x, t) - 2u(x, t) + u(x - \Delta x, t)] \\ &\approx u(x, 0) + \psi(x)\Delta t + \frac{\alpha}{2} [u(x + \Delta x, t) - 2u(x, t) + u(x - \Delta x, t)] \end{aligned} \quad (16)$$

となる．これは，めでたい式である．右辺は， $t = 0$  のみの値で構成されている．これで， $u_{i1}$  ( $i = 1, 2, 3, \dots, N_x - 1$ ) が計算可能になった．この式から，

$$u_{i1} = u_{i0} + \psi(x_i)\Delta t + \frac{\alpha}{2} [u_{i+10} - 2u_{i0} + u_{i-10}] \quad (17)$$

が得られる．

以上より， $u_{i0}$  と  $u_{i1}$  が得られたわけである． $u_{i2}$  以降は，式 (11) に従い，計算すればよい．

### 2.3 進行波の取り扱い

今までの議論で定在波の取り扱いは可能であろう．そこで，進行波の記述方法について，コメントしておく．進行波を数値計算すると面白いのでその方法を示す．進行波を記述するためには，初期条件さえ記述すれば，後の差分方程式は同じである．その初期条件の記述の仕方を示す．

元の波動方程式

$$\frac{\partial^2 u}{\partial x^2} = \frac{1}{c^2} \frac{\partial^2 u}{\partial t^2} \quad (18)$$

には，明らかに，ダランベールの解

$$u(x, t) = f(x - ct) + g(x + ct) \quad (19)$$

というものがある．これは元の波動方程式に代入すれば，それを満足していることは直ちに理解できる．ここで， $f(x - ct)$  は  $x$  軸を正の方向に進む進行波 (forward wave) で， $g(x + ct)$  は負の方向に進む後進波 (backward wave) である．

初期条件

$$u(x, 0) = \phi(x) \quad (20)$$

の波が  $x$  軸を正の方向に進む進行波として取り扱うには，どうしたらよいだろうか? のこる条件は，

$$\frac{\partial u}{\partial t}(x, 0) = \psi(x) \quad (21)$$

である．進行波になるように， $\psi(x)$  を決めればよい． $u(x, t)$  を進行波と仮定すると，式 (20) から

$$u(x, \Delta t) = \phi(x - c\Delta t) \quad (22)$$

となる．この式を使って， $\psi(x)$  を求めることにする． $\psi(x)$  の定義より，

$$\begin{aligned}\psi(x) &= \frac{\partial u}{\partial t}(x, 0) \\ &= \lim_{\Delta t \rightarrow 0} \frac{u(x, \Delta t) - u(x, 0)}{\Delta t} \\ &= \lim_{\Delta t \rightarrow 0} \frac{\phi(x - c\Delta t) - \phi(x)}{\Delta t} \\ &\quad c\Delta t = \Delta x \text{ とおくと} \\ &= -c \lim_{\Delta x \rightarrow 0} \frac{\phi(x) - \phi(x - \Delta x)}{\Delta x} \\ &= -c \frac{d\phi}{dx}\end{aligned}\tag{23}$$

となる．進行波にするためには， $\psi(x)$  は  $\phi(x)$  の導関数にすればよいのである．  
念のため言うておくと，後進波にするためには

$$\psi(x) = c \frac{d\phi}{dx}\tag{24}$$

とすればよい．

### 3 数値計算上の注意

ここで，実際のプログラムを作成する上で，一つだけ注意を与えておく．プログラムが安定に動作するためには，位置と時刻の微小変化の比の 2 乗は，

$$\alpha \leq 1\tag{25}$$

である必要がある．この値は，繰り返し計算をすると，その回数だけ乗算される．即ち， $n$  回の繰り返し計算があれば， $\alpha^n$  が現れる．もし， $\alpha$  が 1 以上であれば，早急に発散するであろう．従って，これは 1 以下になるように，微小変化を考えなくてはならない．

## 4 練習問題

ラプラス方程式のプログラムを参考にして，練習問題のプログラムを作成せよ．

### 4.1 定在波

図 4 のようにギターを留め金でとめている． $t = 0$  の瞬間に留め金をはずした場合，その振動はどうなるか？ $t = 1$  まで，振動の様子を数値計算で求め，それをアニメーションで表示せよ．予め頭で想像したものと結果は大きく食い違わずである．非常に，興味深い結果が得られるはずである．この問題は，フーリエ級数の時間に学習した??．

ヒントを与えておく． $t = 0$  のとき，止められていた弦が動き始める．従って，このときの速度はゼロであるので，初期条件

$$\psi(x) = 0 \quad (26)$$

となる．

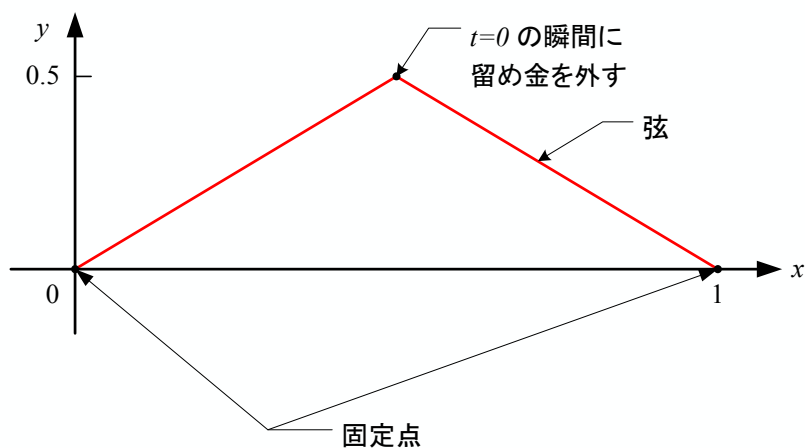


図 4: 問題の弦

## 4.2 進行波

前回の問題の弦の上を進む進行波と後進波について，計算してみよう．弦の長さ  $L = 1$ ，波の速度は  $c = 1$ ，両端は固定されているとする．その条件のもとで，以下 2 つの波が衝突する様子を計算せよ．

後進波は，

$$\phi_1(x) = a \exp \left[ -\frac{(x - x_0)^2}{\sigma^2} \right]$$

ただし，

$$a = 0.5$$

$$\sigma_1 = 0.02$$

$$x_1 = 0.8$$

(27)



とする．そして，進行波は，

$$\phi_2(x) = a(x - x_0) \exp\left(-\frac{(x - x_0)^2}{\sigma^2}\right)$$

ただし，

$$a = 20$$

$$\sigma_1 = 0.02$$

$$x_0 = 0.4$$

(28)

とする． $t = 0$  のときの様子を，図 5 に示す．波の衝突で，その形はどうなるか？．壁に衝突するとどうなるか？計算せよ．

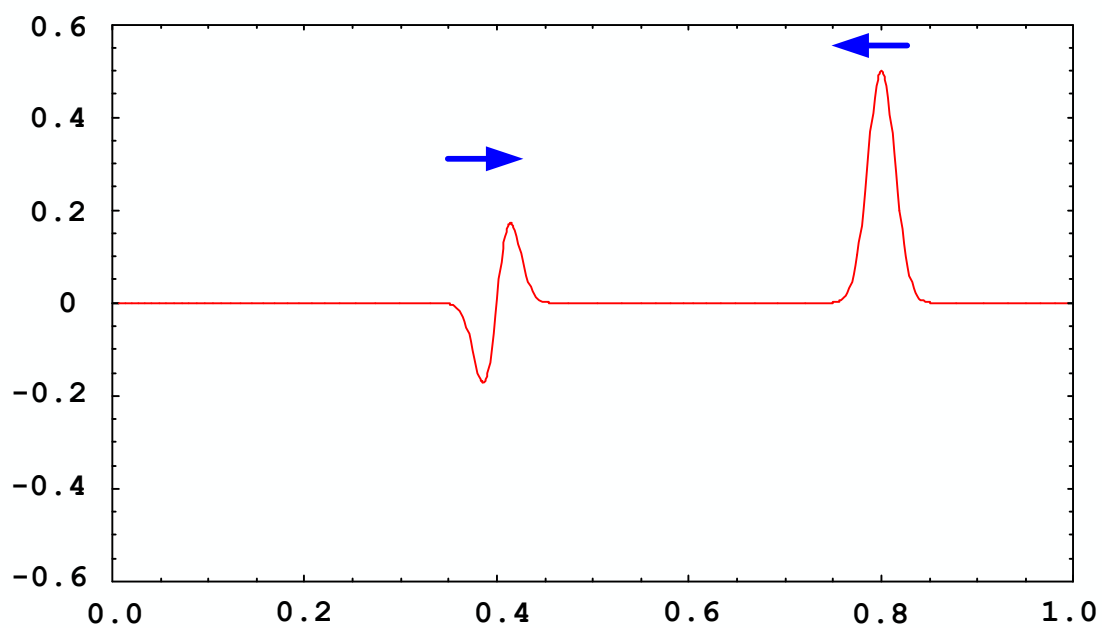


図 5:  $t = 0$  の時の進行波と後進波の様子．

## 参考文献

- [1] 高橋大輔. 数値計算. 岩波書店, 1996.